



# موسسه آموزشی راه تازه کودکان دنیا

آمادگی و دبستان دخترانه غیردولتی

سرگوداش

نام و نام خانوادگی:

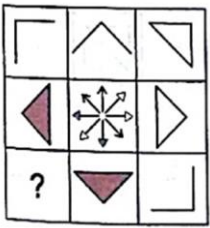
استعداد تحلیلی

پایه ششم

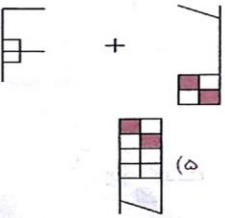
۱- در هریک از سوالات زیر، کدام گزینه شکل را کامل می کند؟



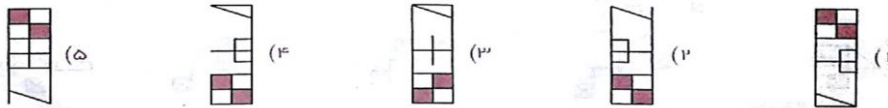
۲-



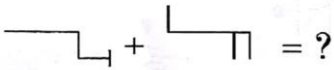
۳- در هریک از سوالات زیر، از ترکیب دو شکل سمت چپ، کدامیک از اشکال به وجود می آید؟



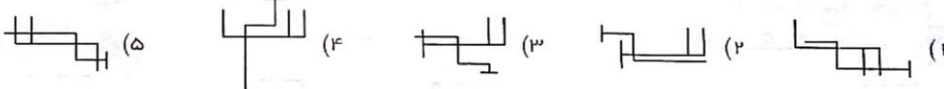
= ?



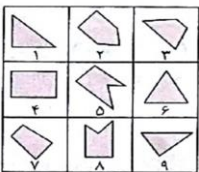
۴-



= ?



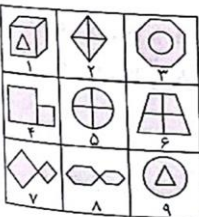
۵- کدام طبقه بندی برای هر دسته از اشکال زیر مناسب تر است؟



۱, ۳, ۲; ۴, ۵, ۷; ۶, ۸, ۹ (۲)  
۱, ۶, ۹; ۳, ۴, ۷; ۲, ۵, ۸ (۴)

۷, ۸, ۹; ۲, ۴, ۳; ۱, ۵, ۶ (۱)  
۱, ۶, ۸; ۳, ۴, ۷; ۲, ۵, ۹ (۳)

۶-




۱, ۳, ۹; ۲, ۷, ۸; ۴, ۵, ۶ (۲)  
۱, ۳, ۶; ۲, ۴, ۸; ۵, ۷, ۹ (۴)

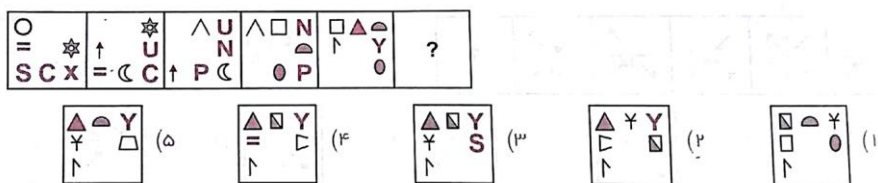
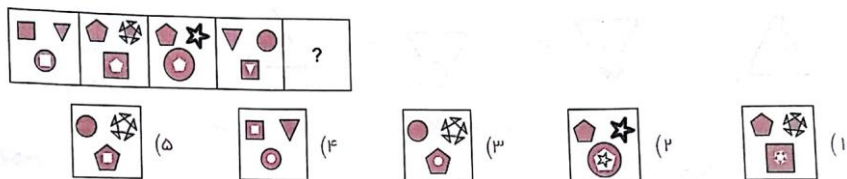
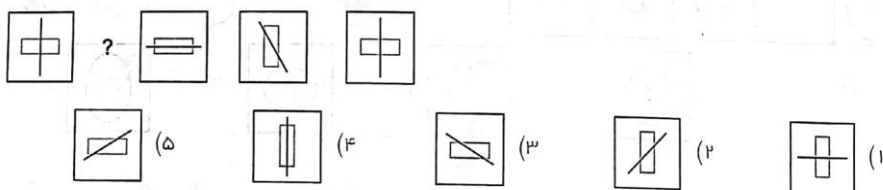
۱, ۳, ۹; ۲, ۵, ۶; ۴, ۷, ۸ (۱)  
۱, ۲, ۴; ۳, ۵, ۷; ۶, ۸, ۹ (۳)

۷- در هر یک از سوالات زیر، ویژگی مشترکی در اشکال گروه (۱) وجود دارد که در اشکال گروه (۲) وجود ندارد. مشخص کنید کدام یک از گزینه ها دارای این ویژگی مشترک است؟

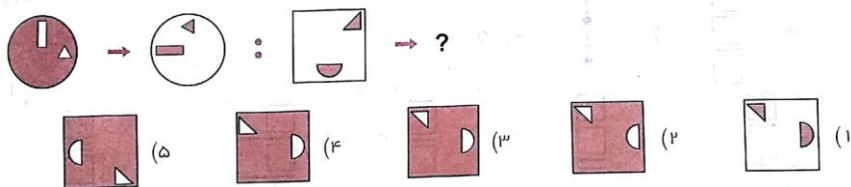
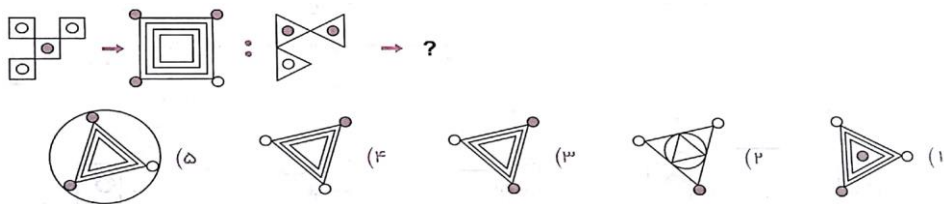
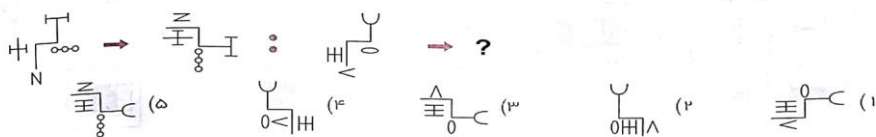




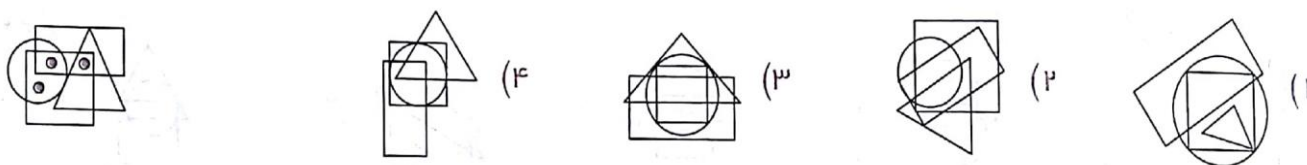
۹- در هر یک از سوالات زیر، با توجه به الگوی اشکال ردیف بالا، کدام یک از اشکال ردیف پایین را باید انتخاب کرد؟

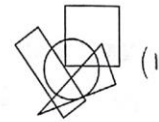

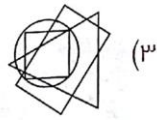
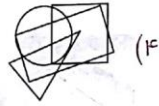


۱۲- اجرای قاعده در شکل ها (ماشین های ورودی و خروجی تصویری)

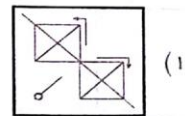
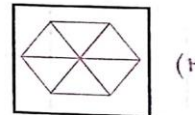

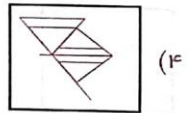
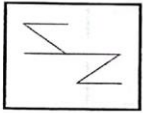
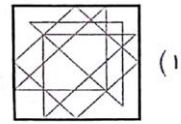

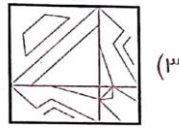
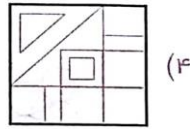
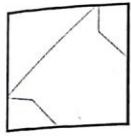


۱۵- در هر یک از سوالات زیر، در کدام گزینه می توان نقطه ها را در جایی قرار داد که جایگاه آنها نسبت به شکل ها، همانند تصویر داده شده باشد؟

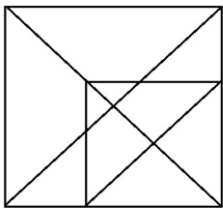




۱۷- در هر یک از سؤالات زیر، شکل سمت چپ در کدام سک از گزینه ها پنهان شده است؟



۱۹- در هر یک از اشکال زیر، چند مثلث وجود دارد؟

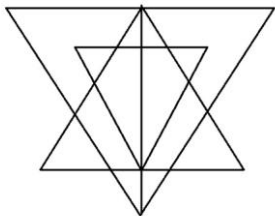


۲۱ (۴)

۱۹ (۳)

۱۸ (۲)

۱۶ (۱)



۲۱ (۴)

۲۳ (۳)

۲۵ (۲)

۲۷ (۱)